

## Úlohy na cvičení 16. dubna 2024 z AN2

1. Načrtněte graf závislosti rychlosti rovnoměrně zrychleného pohybu na čase:  $v = at$ .  
Odvoďte geometricky vzorec pro dráhu: přírůstek dráhy  $\Delta s$  je úměrný přírůstku času  $\Delta s = v\Delta t$  a tento součin na grafu odpovídá obsahu obdélníku o stranách  $v$ ,  $\Delta t$ .<sup>1</sup>
2. Odvoďte závislost dráhy  $s$  na čase  $t$  pro rovnoměrný pohyb s rychlostí  $v_0 > 0$  v čase  $t \in [t_1, t_2]$  a rovnoměrně zrychlený se zrychlením  $a > 0$  v čase  $t \in [t_2, t_3]$ .<sup>2</sup>  
Dráhu počítejte od okamžiku  $t = t_1$  (tj.  $s(t_1) = 0$ ).
3. Načrtněte graf funkce  $f$  a pro  $t \in [a, b]$  vypočtěte obsah  $S(t)$  mnohoúhelníka  $M(t)$  (mezi osou  $x$  a grafem  $f$  v intervalu  $[a, t]$ ).<sup>3</sup>

$$M(t) = \{[x, y] \in \mathbb{R}^2 : x \in [a, t], y \in [0, f(x)]\}$$

Výsledek zkontrolujte výpočtem derivace  $S'$ .

a.  $a = 0, b = 3$

$$f(x) = \begin{cases} 3 & x \in [a, 2] \\ x + 1 & x \in (2, b] \end{cases}$$

b.  $a = 0, b = 4$

$$f(x) = \begin{cases} 5 - x & x \in [a, 3] \\ 2 & x \in (3, b] \end{cases}$$

c.  $a = 1, b = 4$

$$f(x) = \begin{cases} 5 - x & x \in [a, 2] \\ 3 & x \in (2, b] \end{cases}$$

d.  $a = -1, b = 3$

$$f(x) = \begin{cases} 4 & x \in [a, 1] \\ x + 3 & x \in (1, b] \end{cases}$$

4. Přeformulujte úlohu 3 jako fyzikální úlohu. Inspirujte se úlohou 2.
5. Graf funkce  $f$  je sjednocením úseček  $AB$ ,  $BC$ . Funkce  $S$  je zadaná stejně jako v předchozí úloze. Vypočtěte  $S$  a  $S'$ .

---

<sup>1</sup>Připomeňme, že vyjde známý vzorec  $s = \frac{1}{2}at^2$ .

<sup>2</sup>Předpokládáme  $t_1 < t_2 < t_3$ .

<sup>3</sup>Čárka zde znamená konjunkci, tedy  $x \in [a, t], y \in [0, f(x)]$  je totéž jako  $x \in [a, t] \wedge y \in [0, f(x)]$ .

- a.  $A = [0, 4], B = [3, 2], C = [4, 2]$
- b.  $A = [1, 4], B = [2, 3], C = [4, 3]$
- c.  $A = [-1, 4], B = [1, 4], C = [3, 6]$
- d.  $A = [0, 3], B = [2, 3], C = [3, 4]$

6. U funkce  $f$  v zadání úlohy 3 změňte hodnotu v konstantní části. Vypočtěte  $S$  i  $S'$  i pro toto změněné zadání.

- a.  $a = 0, b = 3$

$$f(x) = \begin{cases} 1 & x \in [a, 2] \\ x + 1 & x \in (2, b] \end{cases}$$

- b.  $a = 0, b = 4$

$$f(x) = \begin{cases} 5 - x & x \in [a, 3] \\ 4 & x \in (3, b] \end{cases}$$

- c.  $a = 1, b = 4$

$$f(x) = \begin{cases} 5 - x & x \in [a, 2] \\ 1 & x \in (2, b] \end{cases}$$

- d.  $a = -1, b = 3$

$$f(x) = \begin{cases} 2 & x \in [a, 1] \\ x + 3 & x \in (1, b] \end{cases}$$

7. Výsledky třetí a šesté úlohy zkontrolujte ověřením

- (a)  $S'(t) = f(t)$
- (b)  $S(a) = 0$
- (c) Funkce  $S$  je spojitá na intervalu  $[a, b]$ .

8. Jakou vlastností se liší funkce  $f$  ve třetí a šesté úloze? Jak se tato vlastnost projeví na grafu funkce  $f$ ? Jak na grafu funkce  $S$ ?

9. Jak se na pohybu projeví nespojitost v úloze 6, pokud ji přeformulujeme jako úlohu 2?

Vysvětlete, proč je funkce  $S$  spojitá a jak by se projevila případná nespojitost ve fyzikální interpretaci?

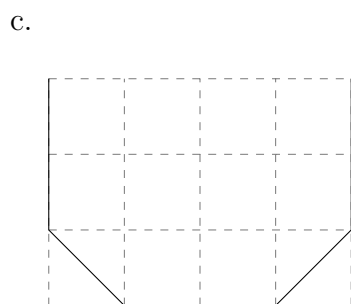
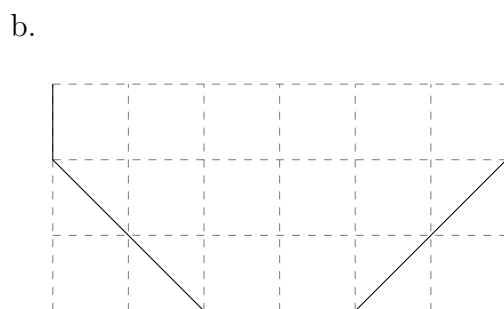
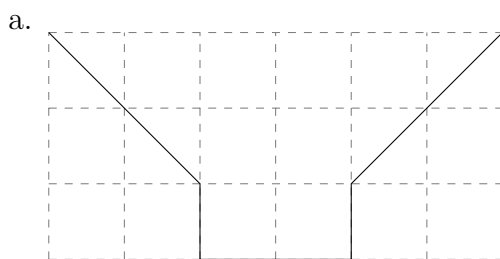
10. Čemu je rovna derivace  $S'$ , je-li  $S(t)$  rovno obsahu množiny  $M(t)$ ?

$$M(t) = \{[x, y] \in \mathbb{R}^2 : x \in [-1, t], y \in [0, 1 - x^2]\}$$

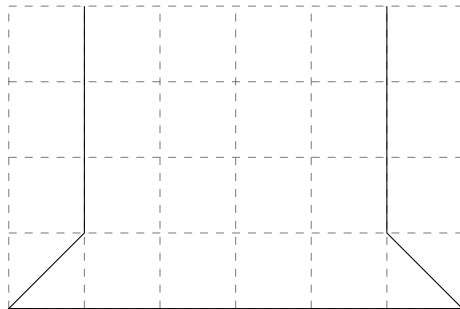
Čemu je rovna funkce  $S$ ?

11. Na obrázku je znázorněn průřez rotačně symetrickou nádobou v jednotkové mřížce.

- Definujte funkce  $S$ ,  $V$ , které charakterizují, jakým způsobem plocha hladiny a objem pod hladinou závisí na výšce hladiny  $h$ .
- Načrtněte graf funkce  $S$ .
- Vypočtete derivaci  $V'$ . Jak tuto derivaci použijete k ověření správnosti výpočtu?
- Úloha na prostorovou představivost: co vám nádoba připomíná? Kde jste viděli nádobu podobného tvaru?



d.



12. Hra *kolikrát hodíš, než ti padne šestka*:

Pořídte si hrací kostku, mnohokrát s ní hodte a počítejte vždy počet hodů, ve kterých za sebou nepadne šestka.

Příklad:

jsou-li hody: 5 4 1 6 3 3 1 2 6 6 5 5 4 1 6 2 2 1,

zapište si počty: 3, 4, 0, 4 (posloupnost 2 2 1 za poslední šestkou ne-  
uvažujeme).

Vášim úkolem je určit průměrnou hodnotu těchto počtů. V našem případě je průměr roven  $(3 + 4 + 0 + 4)/4 = 3.75$ . Budete-li házet dostatečně dlouho, bude se průměr blížit hodnotě, kterou nazýváme *střední hodnotou*.

Střední hodnotu můžete spočítat i jako součet nekonečné řady:

Hodíme-li  $n$ -krát, padne šestka hned v prvním hodu přibližně v  $n/6$  případech.

Kolikrát padne na druhý hod? V  $5n/6$  případech nepadne poprvé a v šestině těchto případů (tedy v  $5n/6 \times 1/6$ ) padne napodruhé.

Podobně spočítáme, že napotřetí padne přibližně v  $5n/6 \times 5/6 \times 1/6 = 5^2n/6^3$  případech.

Součet hodů tedy bude přibližně

$$0 \times \frac{n}{6} + 1 \times \frac{5n}{36} + 2 \times \frac{5^2n}{6^3} + \dots$$

a průměr bude přibližně

$$\frac{0 \times \frac{n}{6} + 1 \times \frac{5n}{36} + 2 \times \frac{5^2n}{6^3} + \dots}{n}$$

Zbývá tedy pokrátit  $n$  a sečíst řadu.